

Олимпиадная работа

по Историй

на Всероссийской олимпиаде школьников

(школьный этап)

ученика (цы) 5В класса

МБОУ СОШ № 11

Лавренкова Антона Сергеевича

(ФИО обучающегося)

Код работы: 0502

ВСЕРОССИЙСКАЯ ОЛИМПИАДА ШКОЛЬНИКОВ
ПО ИСТОРИИ. 2021–2022 учебный год
ШКОЛЬНЫЙ ЭТАП

5 класс

1. Перед вами фотографии, иллюстрирующие деятельность разных историков.
Выберите номера изображений, связанных с работой археологов.

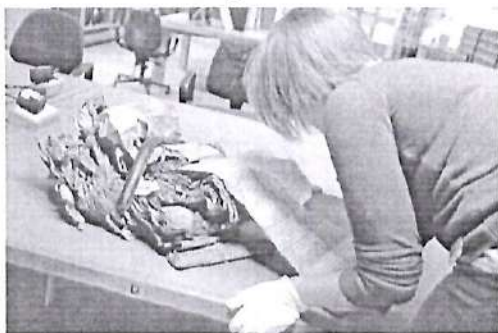
1



2



3



4



5



6



Варианты:

- 1) 1, 3, 4
- 2) 2, 3, 4
- 3) 2, 5, 6
- 4) 3, 4, 5
- 5) 1, 3, 5

Ответ: 3 ✓

Максимум за задание – 3 балла.

3. Соотнесите изображения предметов с их названиями.

0502.

Номер изображения	Название изобретения
1	А. персональный компьютер
2	Б. паровой двигатель (паровая машина)
3	В. бензиновый двигатель внутреннего сгорания
4	Г. деревянный плуг
5	Д. шадуф
6	Е. ручной книгопечатный станок

Ответ:

1	2	3	4	5	6

За каждую верную пару – 1 балл. Максимум за задание – 6 баллов.

4. Расположите представленные предметы в порядке их изобретения человеком.

Ответ:

1	2	3	4	5	6

За каждую верную пару – 1 балл. Максимум за задание – 6 баллов.

5. Определи век, запиши римскими цифрами.

102 год	1100 год	1307 год	2017 год

За каждую верный ответ – 1 балл. Максимум за задание – 4 баллов.

6. Как называются эти орудия труда?

Заточенный камень	серп	молот	лопата	шадуф

За каждую верный ответ – 2 балла. Максимум за задание – 10 баллов.

0502

2. Расставьте годы и века в верной хронологической последовательности.

- А) I век до н. э. Б) 232 год до н. э. В) 1325 год н. э. Г) XIII век

Ответ:

1	2	3	4
Б	А	Г	В

Максимум за задание – 4 балла.


4

3–4. Перед вами различные изобретения человека, созданные им с древнейших времён до наших дней. Рассмотрите изображения и выполните задания.


1




2



3



4



5



6



7. Реши задачу.

В Рим был основан в 753 г. до н. э. Сколько лет прошло от основания Рима до 1147 г., т. е. до первого упоминания Москвы в летописях?

1900 лет


5

Максимум за задание – 5 баллов.

8. Реши задачу.

В 1985 году были найдены останки захоронения, которые пролежали в земле 784 года. В каком году было сделано это захоронение. Вычисления сделайте письменно, отметьте даты на ленте времени.

$$1985 - 784 = 1201$$



10

Максимум за задание – 10 баллов. Правильное вычисление – 5 баллов. Даты отмечены на ленте времени – 5 баллов.

32

Олимпиадная работа

по Истории

на Всероссийской олимпиаде школьников

(школьный этап)

ученика (цы) 5в класса

МБОУ СОШ № 11

Ленкова Милана Станиславовна

(ФИО обучающегося)

Код работы: 005 05

ВСЕРОССИЙСКАЯ ОЛИМПИАДА ШКОЛЬНИКОВ
ПО ИСТОРИИ. 2021–2022 учебный год

ШКОЛЬНЫЙ ЭТАП

5 класс

1. Перед вами фотографии, иллюстрирующие деятельность разных историков.
Выберите номера изображений, связанных с работой археологов.

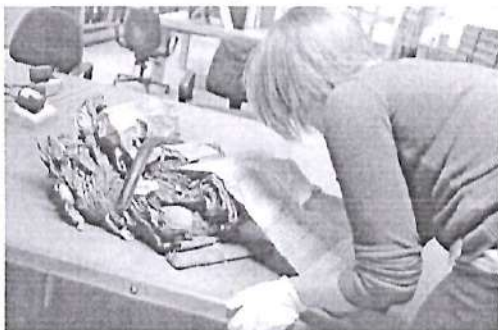
1



2



3



4



5



6



Варианты:

- 1) 1, 3, 4
- 2) 2, 3, 4
- 3) 2, 5, 6
- 4) 3, 4, 5
- 5) 1, 3, 5

Ответ: 3 3

Максимум за задание – 3 балла.

3. Соотнесите изображения предметов с их названиями.

Номер изображения	Название изобретения
1	А. персональный компьютер
2	Б. паровой двигатель (паровая машина)
3	В. бензиновый двигатель внутреннего сгорания
4	Г. деревянный плуг
5	Д. шадуф
6	Е. ручной книгопечатный станок

Ответ:

1	2	3	4	5	6
Д	Е	В А	Б	Г	А

6

За каждую верную пару – 1 балл. Максимум за задание – 6 баллов.

4. Расположите представленные предметы в порядке их изобретения человеком.

Ответ:

1	2	3	4	5	6
Г	Д	В	Б	А	А

0

За каждую верную пару – 1 балл. Максимум за задание – 6 баллов.






5. Определи век, запиши римскими цифрами.

102 год	1100 год	1307 год	2017 год

За каждую верный ответ – 1 балл. Максимум за задание – 4 баллов.

0

6. Как называются эти орудия труда?

				
защитный камень	серп	молот	гарбузи	деревянный плуг
	2	0	2	2
				6

За каждую верный ответ – 2 балла. Максимум за задание – 10 баллов.

2. Расставьте годы и века в верной хронологической последовательности.

- А) I век до н. э.
- Б) 232 год до н. э.
- В) 1325 год н. э.
- Г) XIII век

Ответ:

1	2	3	4
В	Б	А	Г

0

Максимум за задание – 4 балла.

3–4. Перед вами различные изобретения человека, созданные им с древнейших времён до наших дней. Рассмотрите изображения и выполните задания.


1




2



3




4



5



6



(

7. Реши задачу.

В Рим был основан в 753 г. до н. э. Сколько лет прошло от основания Рима до 1147 г., т. е. до первого упоминания Москвы в летописях?


1899 0

Максимум за задание – 5 баллов.

8. Реши задачу.

В 1985 году были найдены останки захоронения, которые пролежали в земле 784 года. В каком году было сделано это захоронение. Вычисления сделайте письменно, отметьте даты на ленте времени.

в 1201 году



Максимум за задание – 10 баллов. Правильное вычисление – 5 баллов. Даты отмечены на ленте времени – 5 баллов.

25

Олимпиадная работа

по Истории

на Всероссийской олимпиаде школьников

(школьный этап)

ученика (цы) 5 Б класса

МБОУ СОШ № 11

Макушев Семён Евгеньевич

(ФИО обучающегося)

Код работы: 0506

ВСЕРОССИЙСКАЯ ОЛИМПИАДА ШКОЛЬНИКОВ
ПО ИСТОРИИ. 2021–2022 учебный год
ШКОЛЬНЫЙ ЭТАП

5 класс

1. Перед вами фотографии, иллюстрирующие деятельность разных историков.
Выберите номера изображений, связанных с работой археологов.

1



2



3



4



5



6



Варианты:

- 1) 1, 3, 4
- 2) 2, 3, 4
- 3) 2, 5, 6
- 4) 3, 4, 5
- 5) 1, 3, 5

Ответ: 3) 3

Максимум за задание – 3 балла.

3. Соотнесите изображения предметов с их названиями.

05 06

Номер изображения	Название изобретения
1	А. персональный компьютер
2	Б. паровой двигатель (паровая машина)
3	В. бензиновый двигатель внутреннего сгорания
4	Г. деревянный плуг
5	Д. шадуф
6	Е. ручной книгопечатный станок

Ответ:

1	2	3	4	5	6
Д	Е	Б	В	Г	А

6

За каждую верную пару – 1 балл. Максимум за задание – 6 баллов.

4. Расположите представленные предметы в порядке их изобретения человеком.

Ответ:

1	2	3	4	5	6
5.	1.	2.	3.	4.	6.

3

За каждую верную пару – 1 балл. Максимум за задание – 6 баллов.

5. Определи век, запиши римскими цифрами.

102 год	1100 год	1307 год	2017 год
II	XI	XIII XIV	XXI

За каждую верный ответ – 1 балл. Максимум за задание – 4 баллов.

3

6. Как называются эти орудия труда?

				
каменный наконечник 0	кость 0	каменный топор 2	меч из слоновой кости 0	деревянный плуг 2

За каждую верный ответ – 2 балла. Максимум за задание – 10 баллов.

4

2. Расставьте годы и века в верной хронологической последовательности.

0506

- А) I век до н. э. Б) 232 год до н. э. В) 1325 год н. э. Г) XIII век

Ответ:

1	2	3	4
A	B X	Г	B

Максимум за задание – 4 балла.


2

3–4. Перед вами различные изобретения человека, созданные им с древнейших времён до наших дней. Рассмотрите изображения и выполните задания.


1




2



3



4



5



6



7. Реши задачу.

В Рим был основан в 753 г. до н. э. Сколько лет прошло от основания Рима до 1147 г., т. е. до первого упоминания Москвы в летописях?

$$753 + 1147 = 1900$$


5

Максимум за задание – 5 баллов.

8. Реши задачу.

В 1985 году были найдены останки захоронения, которые пролежали в земле 784 года. В каком году было сделано это захоронение. Вычисления сделайте письменно, отметьте даты на ленте времени.

$$1985 - 784 = 1201$$



Максимум за задание – 10 баллов. Правильное вычисление – 5 баллов. Даты отмечены на ленте времени – 5 баллов.

5

31